

DELIM S ŠTEVILOM 8

1. Preštej, obkroži po 8 in napiši račun.





$$\underline{\quad} : 8 = \underline{\quad}$$



$$\underline{\quad} : 8 = \underline{\quad}$$




$$\underline{\quad} : 8 = \underline{\quad}$$

2. Kuhar Jože je narezal 32 kosov pice. Vsako  je razrezal na 8 kosov. Koliko  je razrezal?

Nariši:

Račun: _____

Odgovor: _____

3. Maja je prebrala v enem dnevu 56 strani , Hana pa 8-krat manj. Koliko strani je prebrala Hana?

Račun: _____

Odgovor: _____

5. Prepiši v zvezek in izračunaj.

$$12 : 8 = \underline{\quad}, \text{ ker je } \underline{\quad} \cdot 8 = \underline{\quad}$$

$$64 : 8 = \underline{\quad}, \text{ ker je } \underline{\quad} \cdot 8 = \underline{\quad}$$

$$56 : 8 = \underline{\quad}, \text{ ker je } \underline{\quad} \cdot 8 = \underline{\quad}$$

$$72 : 8 = \underline{\quad}, \text{ ker je } \underline{\quad} \cdot 8 = \underline{\quad}$$