



GEOMETRIJSKA TELESA

✚ Doma poišči predmete, ki imajo obliko TELES:

- kocke  (igralna kocka, škatlica...),

- kvadra  (škatlica od zdravil, čaja...),

- krogle  (žoga...)

- valja  (embalaža vitaminov, kozarec.....).

✚ Opazuj vsa telesa, ki si jih našel.

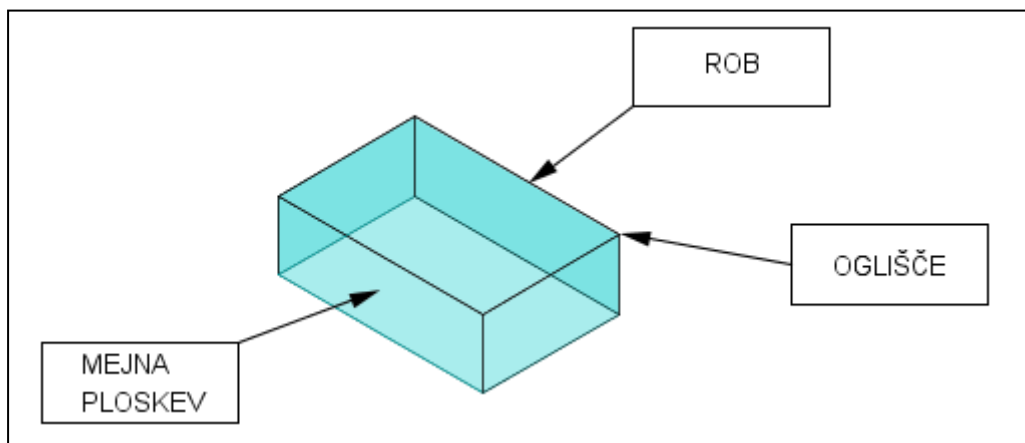
✚ Vzemi v roko kvader. **Geometrijsko telo je del prostora, ki ga omejujejo mejne ploskve.** Mejne ploskve so različnih oblik! Kakšnih oblik mejnih ploskev ima kvader?

✚ Sosednji mejni ploskvi se stikata v **robu**. S prstom pojdi po robovih kvadra.

✚ Sosednji robovi se stikajo v **oglišču**. Pokaži oglišča.

✚ Pogledj, preberi in prepisi ter preriši v zvezek (MAT) spodnjo skico.

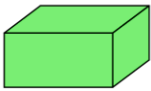



✚ Napiši najprej naslov **TELESA**.



✚ Na svojih modelih ugotovi, koliko mejnih ploskev, robov in oglišč imajo.

✚ Reši naloge v DZ str. 100.

- Preveri pravilnost 1. naloge na str. 100. Primerjaj jo s spodnjo tabelo in spodnjo tabelo preriši in prepisi v zvezek.

				
IME TELESA	kvader	kocka	valj	krogla
ŠTEVILO PLOSKEV	6	6	3	1
ŠTEVILO ROBOV	12	12	2	0
ŠTEVILO OGLIŠČ	8	8	0	0

- Lahko se še malo igraš. Daj predmete, ki si jih našel v vrečko. Najdi nekoga, ki se bo s tabo igral, ta naj v vrečki prime telo in ga opiše z matematičnimi izrazi (mejna ploskev, rob, oglišče, oblika mejne ploskve). Ugotovi, katero telo opisuje. Vlogi lahko tudi zamenjata.