









PREGLEJ REŠITVE PRETEKLEGA DELA:

MERJENJE - PLOŠČINA (str. 72)

1.

					
	X				
				X	
			X		

2.

Lik	A	B	C	D
Merskih enot E	16	20	19	16

4. 4, 4, 4

5. A-15, B-28, C-14, Č-8

ČE ŽELIŠ:

Na Radovednih pet najdeš kar nekaj dobrih vaj, da se preizkusiš v razumevanju merjenja ploščine z nestandardno enoto (kvadratom, pravokotnikom ...)

<https://www.radovednih-pet.si/vsebine/rp5-mat-sdz-osn/>

Klik na drugo ikono levo zgoraj (kjer je seznam vseh tem)

Poiščeš št. 20 **Liki in telesa** in klikneš.

Poiščeš št. 8 **Ploščina likov** in greš po vrsti čez vse naloge in razlage.

OBVEZNO:

DZ str. 74, 75 Pazi, kaj je pri posamezni nalogi merska enota, s katero meriš ploščino.