

PRI RAČUNANJU TI BO POMAGALA ŽABICA. POGLEJ SI PRVI PRIMER.

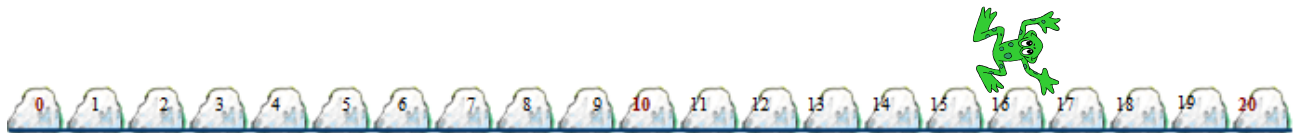
ŽABICA JE ČEPELA NA KAMNU ŠTEVILKA **13** IN JE NAREDILA **3** POSKOKE PO KAMNIH NAPREJ. SKAKALA JE IZ KAMNA NA KAMEN. NA KATEREM KAMNU JE PRISTALA?



TO ZAPIŠEMO Z RAČUNOM $13 + 3 = 16$


RAČUNAJ Z ŽABICO ŠE TI. NALOGE NAREDI USTNO.

ŽABICA JE ČEPELA NA KAMNU ŠTEVILKA **16** IN JE NAREDILA **2** POSKOKA PO KAMNIH NAPREJ. SKAKALA JE IZ KAMNA NA KAMEN. NA KATEREM KAMNU JE PRISTALA?



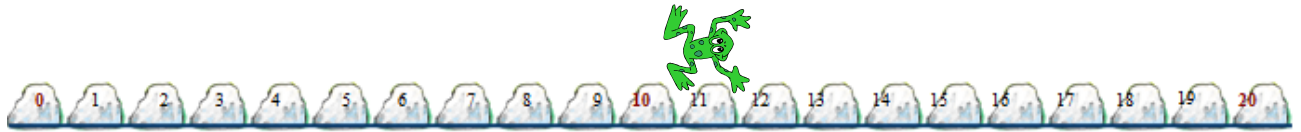
$16 + 2 = \square$

ŽABICA JE ČEPELA NA KAMNU ŠTEVILKA **15** IN JE NAREDILA **4** POSKOKE PO KAMNIH NAPREJ. SKAKALA JE IZ KAMNA NA KAMEN. NA KATEREM KAMNU JE PRISTALA?




$15 + 4 = \square$

ŽABICA JE ČEPELA NA KAMNU ŠTEVILKA **11** IN JE NAREDILA **6** POSKOKOV PO KAMNIH NAPREJ. SKAKALA JE IZ KAMNA NA KAMEN. NA KATEREM KAMNU JE PRISTALA?




$$11 + 6 = \square$$

ŽABICA JE ČEPELA NA KAMNU ŠTEVILKA **12** IN JE NAREDILA **5** POSKOKOV PO KAMNIH NAPREJ. SKAKALA JE IZ KAMNA NA KAMEN. NA KATEREM KAMNU JE PRISTALA?



$$12 + 5 = \square$$

ŽABICA JE ČEPELA NA KAMNU ŠTEVILKA **17** IN JE NAREDILA **2** POSKOKA PO KAMNIH NAPREJ. SKAKALA JE IZ KAMNA NA KAMEN. NA KATEREM KAMNU JE PRISTALA?



$$17 + 2 = \square$$