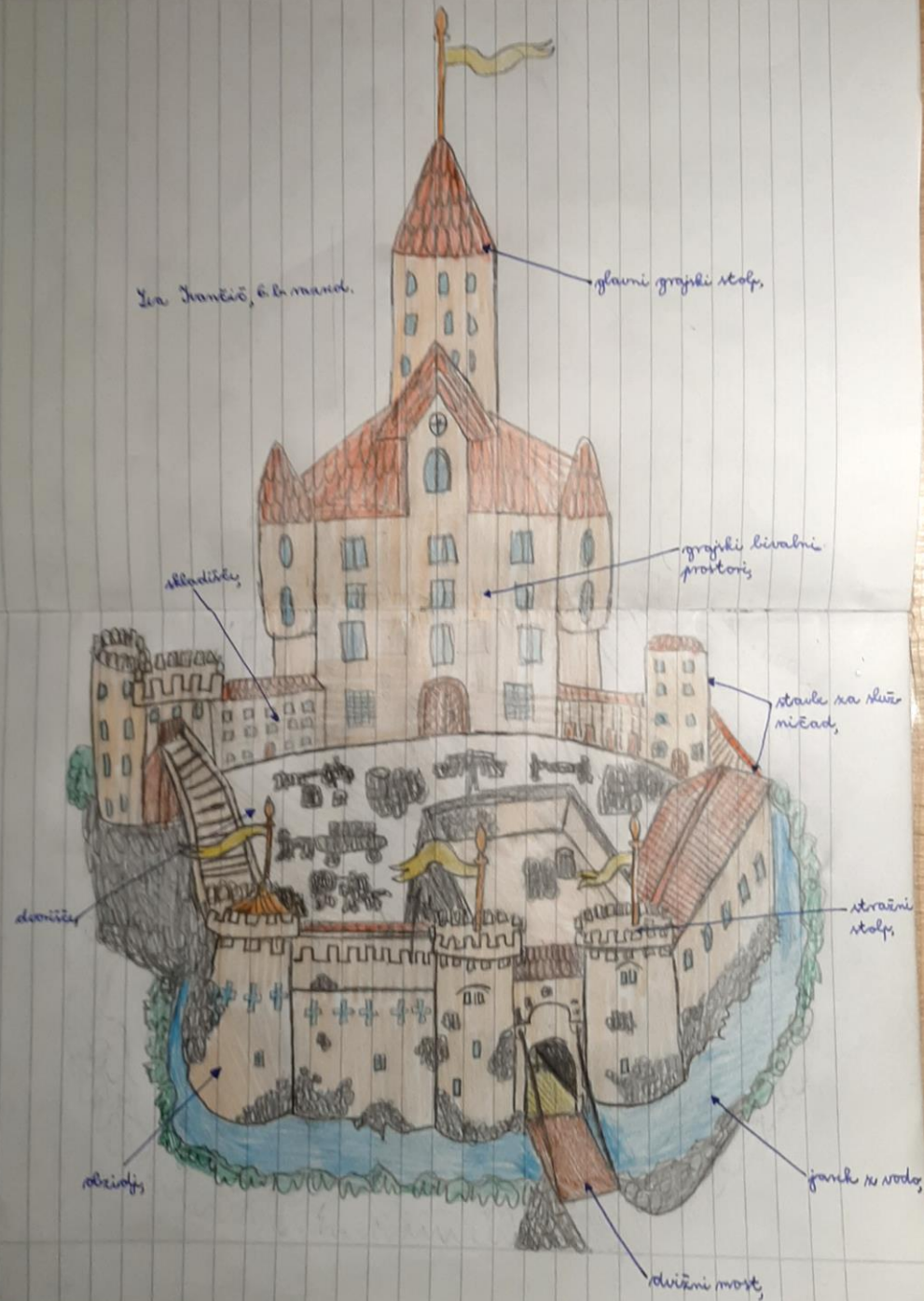


# SREDNJEVEŠKA MESTA

Učno gradivo za 6. razred  
-pouk na daljavo-

Po mojem mnenju je najboljšo nalogo prejšnjega tedna oddala Lea Ivančič, zato objavljam njeno risbo. Čestitam, Lea!



# Uvodna razlaga

V srednjem veku so se ukvarjali predvsem s kmetijstvom. Trgovine in obrti je bilo zelo malo. Zato je bilo v začetku srednjega veka malo mest. Ljudje so večinoma živeli v vaseh.

Po letu 1000 nš začnejo v Evropi nastajati srednjeveška mesta. Trgovina je oživela, uveljavi se kovan denar.


Danes si bomo ogledali **značilnosti srednjeveških mest.**

Pomagaj si z učbenikom na strani 35.

V zvezek prepisi naslov in besedilo, obarvano z modro.

# 1. Značilnosti srednjeveških mest

Na fotografijah je srednjeveško mesto Škofja Loka. Oglej si fotografije in zapiši 2 značilnosti srednjeveških mest!



## 2. Kje so nastala mesta?

- V bližini gradov
- Ob cerkvah in samostanih
- Ob rečnih pristaniščih
- Ob križiščih cest in poti



Ljubljana je nastala pod gradom



Ptuj je nastal ob reki Dravi, kjer je so že Rimljani zgradili most. Tu je bilo tudi rečno pristanišče.

### 3. Kdo je živel v mestih?



V mestih so živali **obrtniki in trgovci**. Bogati meščani so živali v razkošnih hišah na trgu. Revnejši pa v majhnih lesenih hišah na obrobju mesta.



Razmisli, zakaj so bili srednjeveške hiše opremljene s takšnimi izveski?

## 4. Središče mesta - trg

V srednjem veku ni bilo trgovin, kot jih poznamo danes, ampak so trgovci ob določenih dneh lahko na trgu prodajali svoje blago. Oglej si fotografije in s pomočjo učbenika zapiši glavne značilnosti mestnih trgov!



Mestna hiša na Ptuj



Mestna hiša – Magistrat v Ljubljani





Stolnica Svetega Štefana na Dunaju stoji v središču mesta



Tudi Kobarid je nastal kot trg ob križišču cest, ki pripeljejo iz Čedad, iz Bovca in iz Tolmina. V središču trga stoji cerkev Marijinega vnebovzetja.





Na fotografiji je „pranger“. Zapiši, kako rečemo tej napravi v slovenskem jeziku in kakšno vlogo so imeli v srednjeveških mestih?

## 5. Kaj je še imelo mesto?

S pomočjo ilustracije v učbeniku na strani 35 v zvezek zapiši značilnosti mesta, ki jih vidiš na sliki!



## 6. Odgovori na vprašanja!

Ta teden mi ni potrebno pošiljati nalog. Pomembno pa je, da jo naredite!

- a) Zakaj so v mestih pogosto izbruhnile epidemije bolezni?
- b) Zakaj so v mestih gradili visoke hiše?
- c) Zakaj so imela mesta ozke ulice?
- d) Zakaj so v mestih pogosto izbruhnili požari?
- e) Koliko prebivalcev so štela srednjeveška mesta?