


Draga učenka, učenec

- SNOV OBSEGA 3 ŠOLSKE URE, delo si zato enakomerno porazdeli.
- Oglej si predstavitev
- V zvezek napiši strani označene z zvezdico

Razvoj vretenčarjev

a) Ribe

V jajčecu- ikri → ličinka



b) Dvoživke

V jajčecu(mrest)

↓
paglavec


↓ preobrazba

odrasel osebek



c) Plazilci

V jajcu



samostojni
mladiči



č) Ptice

V jajcu (valijo starši)



mladiči

- **Operjeni puhavci**

(npr. kokoš)- zapustijo gnezdo, sami hranijo

- **Neoperjeni goliči**

(npr. lastovka) – hranijo starši



d) Sesalci

V maternici (večina), po rojstvu se hranijo z mlekom.



?





- Izdečaj svoj miselni vzorec o razvoju vretenčarjev- rib, dvoživk, plazilcev, ptičev in sesalcev (učb. str.143-144)

PONOVITEV :

- <https://www.thatquiz.org/sl/practicetest?1w8b8nbydoi0>

Razvojni krog zajedalcev





➤ Zajedalec

Organizem, ki trajno ali občasno zajeda drug organizem-gostitelja

➤ Notranji zajedalec

V organih, telesnih votlinah gostitelja , npr. gliste, trakulje, metljaj - povečini oslabijo gostitelja

➤ Zunanji zajedalec

Na telesni površini , npr. klopi, bolhe, uši, komarji, obadi, pršice – so prenašalci bolezni

➤ Zajedalci imajo **glavnega gostitelja** in pogosto še 1 ali več **vmesnih gostiteljev**.




Preberi snov na povezavi in odgovori na vprašanja

<https://eucbeniki.sio.si/nar7/2021/index1.html>

ODGOVORI NA VPRAŠANJA

1. V naših krajih so nam najnevarnejši zunanji zajedavci klopi. Obrazloži zakaj.
2. Kateri mikroorganizem povzroča boreliozo?
3. Kakšna sprememba na koži je znak za okužbo s povzročiteljem borelioze ?
4. Poimenuj povzočitelja meningitisa.

5. Proti kateri bolezni, ki jo povročajo klopi se lahko uspešno zavarujemo in na kakšen način ?



6. Kako bi se najbolje zavaroval pred klopi, ko greš v gozd...?

Oglej si posnetek o klopu

<http://www.youtube.com/watch?v=wq1nHjlc1B4>