




1. ZA VSAKO SLIKO SESTAVI RAČUN IN GA IZRAČUNAJ.
NALOGO NAREDI USTNO.



2. IZRAČUNAJ. LAHKO SI POMAGAŠ S SVOJO GOSENICO.

POGLEJ SI, KAKO LAHKO S POMOČJO GOSENICE IZRAČUNAŠ PRVI RAČUN $18 - 5 = \underline{\quad}$. NA PODOBEN NAČIN REŠUJ TUDI DRUGE RAČUNE. RAČUNE PIŠI V ZVEZEK S KVADRATKI.



$$18 - 5 = \square$$

$$20 - 8 = \square$$

$$19 - 6 = \square$$

$$16 - 0 = \square$$

$$15 - 1 = \square$$


$$14 - 4 = \square$$

$$17 - 7 = \square$$

$$13 - 3 = \square$$

$$20 - 2 = \square$$

3. KOLIKO JABOLK JE BILO NA ZAČETKU? KOLIKO SMO JIH
POJEDLI? KOLIKO JABOLK NAM JE ŠE OSTALO?



SESTAVI RAČUN IN GA ZAPIŠI V ZVEZEK:

<input type="text"/>	-	<input type="text"/>	=	<input type="text"/>
----------------------	---	----------------------	---	----------------------